

**Društvo matematikov, fizikov  
in astronomov Slovenije**

Jadranska ulica 19  
1000 Ljubljana

# **Tekmovalne naloge DMFA Slovenije**

Društvo matematikov, fizikov in astronomov Slovenije dovoljuje shranitev v elektronski obliki, natis in uporabo gradiva v tem dokumentu **za lastne potrebe učenca/dijaka/študenta in za potrebe priprav na tekmovanje na šoli, ki jo učenec/dijak/študent obiskuje**. Vsakršno drugačno reproduciranje ali distribuiranje gradiva v tem dokumentu, vključno s tiskanjem, kopiranjem ali shranitvijo v elektronski obliki je prepovedano.

Še posebej poudarjamo, da **dokumenta ni dovoljeno javno objavljati na drugih spletnih straneh** (razen na [www.dmfa.si](http://www.dmfa.si)), dovoljeno pa je dokument hraniti na npr. spletnih učilnicah šole, če dokument ni javno dostopen.

## NALOGE ZA 1. LETNIK

1. Brez uporabe žepnega računalja izračunaj vrednost izraza  $2^3 \cdot 3^{-9} \cdot 6^6 \cdot 8^{-8} \cdot 1728$ .  
Rezultat naj bo zapisan v obliki potence.

2. Poenostavi izraz

$$\left(\frac{2}{5}x^2 - \left(\frac{5}{2xy}\right)^{-1}\right)(x^2 - y^2)^{-1} \frac{1}{0,39}.$$

3. Dan je trikotnik  $ABC$  z oglišči  $A(-1, 2)$ ,  $B(-2, -3)$  in  $C(2, -1)$ . Iz točke  $A$  konstruiramo pravokotnico na stranico  $BC$ . Pravokotnica seka  $BC$  v točki  $E$ . Natančno izračunaj dolžino daljice  $AE$ .

4. Dani sta števili  $a = -8$  in  $b = 36$ .

a) Izračunaj vrednost izraza  $\left||a| - 2\sqrt{b}\right| - \frac{1}{2}|\sqrt[3]{a}|$ .

b) Reši enačbo  $|x - \sqrt[3]{a}| = \sqrt{b}$ .

5. Mojster in njegov pomočnik sta prejela za opravljeno delo 197 200 SIT. Mojstrova dnevnic je za 56,5% večja od pomočnikove dnevnic. Koliko je zaslužil vsak, če je mojster delal 20 dni, pomočnik pa 18 dni? Zapiši odgovor.

---

Naloge rešuj samostojno na priloženi papir, in sicer vsako nalogo na svojo stran.

Na liste se ne podpisuj, napiši le svojo šifro.

Izdelek piši s črnilom čitljivo in pregledno. Rešitev vsake naloge bo ocenjena z 0 do 6 točkami.

**Za reševanje imaš na voljo 120 min.**

DRŽAVNA TEKMOVALNA KOMISIJA TI ŽELI VELIKO USPEHA.

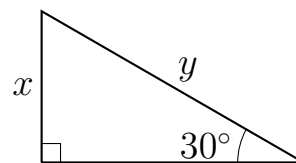
## NALOGE ZA 2. LETNIK

1. Na naš računalnik se je naselil virus SEM LAČEN. Ob vsakem kliku miške virus zasede novih 0,5 MB prostora. Zapiši funkcijo, ki ponazarja širjenje virusa. Po kolikih klikih z miško bo virus zasedel  $2,5 \cdot 10^3$  MB prostora? Zapiši odgovor.

2. Dana je funkcija  $f(x) = mx - (3m - 20)$ , kjer je  $m$  rešitev enačbe

$$\frac{(\sqrt[3]{2})^6 \cdot 2^{-6}}{0,5^2 \cdot 8^{-\frac{2}{3}}} = m \cdot \frac{1}{(\sqrt[3]{2})^9}. \text{ Nariši graf funkcije } f.$$

3. Ograditi želimo vrt trikotne oblike, kot kaže slika. Koliko metrov lesene ograje potrebujemo, če vemo, da je  $x + y = 15$  m? Rezultat naj bo natančen. Zapiši odgovor.



4. Na krožnico s premerom 10 cm sta narisani obe tangenti iz točke  $A$  izven krožnice. Točka  $A$  je od središča krožnice oddaljena 1,3 dm. Izračunaj razdaljo med dotikališčema tangent na krožnico in jo izrazi v centimetrih. Rezultat zaokroži na eno decimalno mesto natančno.

5. Poenostavi izraz  $\left( (1-x)\sqrt{\frac{1+x}{1-x}} + 1-x \right) \cdot \left( \sqrt{\frac{1+x}{1-x}} - 1 \right)$ , če je  $-1 \leq x < 1$ .

---

Naloge rešuj samostojno na priloženi papir, in sicer vsako nalogo na svojo stran.

Na liste se ne podpisuj, napiši le svojo šifro.

Izdelek piši s črnilom čitljivo in pregledno. Rešitev vsake naloge bo ocenjena z 0 do 6 točkami.

**Za reševanje imaš na voljo 120 min.**

DRŽAVNA TEKMOVALNA KOMISIJA TI ŽELI VELIKO USPEHA.

## NALOGE ZA 3. LETNIK

1. Dana je funkcija  $f(x) = 3^x$ . Določi funkciji  $g(x) = f(x + 1)$  in  $h(x) = 4f(x) - 3$  ter izračunaj presečišče njunih grafov.
2. S pomočjo desetiških logaritmov reši dano enačbo  $\sqrt{x^{\log \sqrt{x}}} = 10$ .
3. Razlika obsegov dveh kvadratov je 8 cm, razlika ploščin pa 16 cm<sup>2</sup>. Koliko je vsota njunih ploščin? Zapiši odgovor.
4. Izračunaj površino in prostornino pokončne tristrane prizme, ki ima za osnovno ploskev pravokotni trikotnik, katerega dolžini katet sta rešitvi enačbe  $\log_{x-2}(10x - 44) = 2$ . Višina prizme je enaka dolžini hipotenuze osnovne ploskve.
5. Če bi se zavojček žvečilnih gumijev podražil za toliko odstotkov, kolikor znaša njegova sedanja cena, bi morali za štiri zavojčke plačati 429 tolarjev. Koliko nas ti štirje zavojčki stanejo sedaj? Zapiši odgovor.

---

Naloge rešuj samostojno na priloženi papir, in sicer vsako nalogo na svojo stran.

Na liste se ne podpisuj, napiši le svojo šifro.

Izdelek piši s črnilom čitljivo in pregledno. Rešitev vsake naloge bo ocenjena z 0 do 6 točkami.

**Za reševanje imaš na voljo 120 min.**

DRŽAVNA TEKMOVALNA KOMISIJA TI ŽELI VELIKO USPEHA.

## NALOGE ZA 4. LETNIK

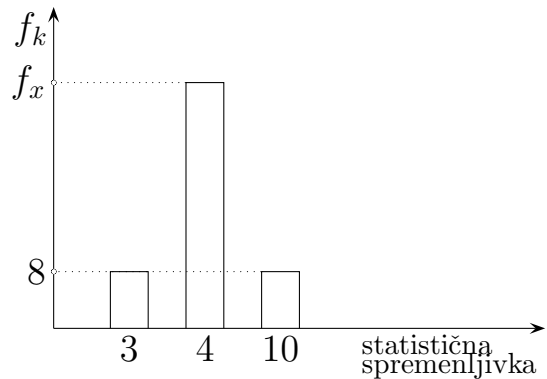
1. Dani sta enačbi  $2 \log_3(x + 2) - \log_3 x = 2$  in  $25^x = 0,008$ .

a) Reši enačbi.

b) Rešitve enačb so ničle polinoma  $p$  tretje stopnje. Graf tega polinoma poteka tudi skozi točko  $(2, 7)$ . Zapiši predpis polinoma  $p$  v ničelni obliki.

2. Določi presečišče grafa funkcije  $f(x) = \frac{2x^3+x+1}{x^3+1}$  z njegovo vodoravno asimptoto.

3. Povprečna vrednost statistične spremenljivke, ki jo opisuje stolpični diagram, je 4,5. Izračunaj neznanu frekvenco  $f_x$ .



4. Na grafu funkcije  $f(x) = \sin x$  sta točki  $A(\frac{\pi}{3}, f(\frac{\pi}{3}))$  in  $B(\frac{\pi}{6}, f(\frac{\pi}{6}))$ . Zapiši enačbo premice, ki poteka skozi točki  $A$  in  $B$ . Koeficienti naj bodo določeni natančno (brez uporabe žepnega računalja).

5. Površine petih kock so členi geometrijskega zaporedja s količnikom 4. Rob najmanjše kocke je dolg 5 cm. Kolikšna je vsota površin vseh petih kock? Koliko meri površina največje kocke?

---

Naloge rešuj samostojno na priloženi papir, in sicer vsako nalogo na svojo stran.

Na liste se ne podpisuj, napiši le svojo šifro.

Izdelek piši s črnilom čitljivo in pregledno. Rešitev vsake naloge bo ocenjena z 0 do 6 točkami.

**Za reševanje imaš na voljo 120 min.**

DRŽAVNA TEKMOVALNA KOMISIJA TI ŽELI VELIKO USPEHA.

## Rešitve nalog in točkovnik

**Tekmovalec, ki je prišel po katerikoli pravilni metodi do rešitve (četudi točkovnik take ne predvideva), dobi vse možne točke.**

Za pravilno metodo se upošteva vsak postopek, ki

- smiselno upošteva besedilo naloge,
- vodi k rešitvi problema,
- je matematično pravilen in popoln.

Tekmovalec, ki je le delno rešil nalogo, iz sicer pravilnih postopkov reševanja pa ni videti poti do končne rešitve naloge, ne more dobiti več kot polovico možnih točk.

### Prvi letnik

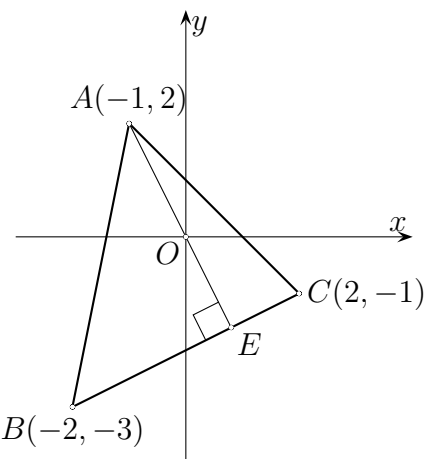
1. Število 1728 v izrazu  $2^3 \cdot 3^{-9} \cdot 6^6 \cdot 8^{-8} \cdot 1728$  razcepimo na prafaktorje  $1728 = 2^6 \cdot 3^3$ . Zapišemo  $6^6 = (2 \cdot 3)^6 = 2^6 \cdot 3^6$  in  $8^{-8} = 2^{-24}$ . Upoštevamo pravila za množenje potenc z enako osnovo: osnovo prepisemo, eksponente seštejemo in dobimo rezultat  $2^{-9}$ .

Razcep števila 1728 na prafaktorje .....	1 + 1 točka
Zapis števila $6^6 = (2 \cdot 3)^6$ ali $2^6 \cdot 3^6$ .....	1 točka
Zapis števila $8^{-8} = 2^{-24}$ .....	1 točka
Poenostavitev izraza do $2^{-9} \cdot 3^0$ .....	1 točka
Rezultat .....	1 točka

2. V danem izrazu zapišemo število  $0,3\overline{9}$  z ulomkom  $\frac{2}{5}$ . Poenostavimo izraz v prvem oklepaju  $\frac{2x^2-2xy}{5} = \frac{2x(x-y)}{5}$  in pišemo  $(x^2 - y^2)^{-1}$  v obliki  $\frac{1}{(x+y)(x-y)}$ . Po krajšanju dobimo  $\frac{x}{x+y}$ .

Zapis $0,3\overline{9} = \frac{2}{5}$ .....	1 točka
Zapis ulomka $\frac{1}{0,3\overline{9}}$ s $\frac{5}{2}$ .....	1 točka
Potenciranje z $-1$ v prvem oklepaju .....	1 točka
Odprava prvega oklepaja do $\frac{2x(x-y)}{5}$ .....	1 točka
Odprava drugega oklepaja do $\frac{1}{(x+y)(x-y)}$ .....	1 točka
Rezultat $\frac{x}{x+y}$ .....	1 točka

3. Ugotovimo, da je v danem trikotniku  $v_a = d(A, E)$ .  
 Izračunamo ploščino trikotnika ABC:  $S = 9$ . Dolžina  
 stranice  $a$  je enaka  $d(B, C) = 2\sqrt{5}$ . Nato izrazimo  $v_a$  iz  
 ploščine  $v_a = \frac{2 \cdot S}{a} = \frac{9\sqrt{5}}{5}$ . Dolžina  $v_a = \frac{9\sqrt{5}}{5}$ .



- Ugotovitev, da je  $d(A, E) = v_a$  ..... 1  
 točka  
 Uporaba ustreznega obrazca za ploščino ..... 1  
 točka  
 Izračun  $S = 9$  ..... 1 točka  
 Izračunana  $a = d(B, C) = 2\sqrt{5}$  ..... 1 točka  
 Pravilno vstavljeni podatki v obrazec  $S = \frac{av_a}{2}$  ..... 1 točka  
 Rezultat  $v_a = \frac{9\sqrt{5}}{5}$  ..... 1 točka

4. a) V dani izraz vstavimo ustrezni števili:  $||-8|-2\sqrt{36}|-\frac{1}{2}\sqrt[3]{-8}| = |8-12|-\frac{1}{2} \cdot 2 = 4-1 = 3$ .  
 b) Enačbo  $|x - \sqrt[3]{-8}| = \sqrt{36}$  poenostavimo:  $|x + 2| = 6$ . Odtod sklepamo  $x + 2 = \pm 6$  ter  
 dobimo rešitvi  $x_1 = 4$  in  $x_2 = -8$ .

- a) Upoštevanje prve absolutne vrednosti  $||a| - 2\sqrt{b}| = 4$  ..... 1 točka  
 Upoštevanje  $|\sqrt[3]{-8}| = 2$  ..... 1 točka  
 Rezultat 3 ..... 1 točka  
 b) Zapis enačbe  $|x + 2| = 6$  ..... 1 točka  
 Rešitvi:  $x_1 = 4$  in  $x_2 = -8$  ..... 1 + 1 točka

5. Naj bo  $x$  dnevnic pomočnika. Tedaj je dnevnic mojstra enaka  $1,565x$ . Po besedilu naloge  
 nastavimo enačbo  $20 \cdot 1,565x + 18x = 197\,200$ . Rešitev enačbe je  $x = 4000$ . Prejeto plačilo  
 za opravljeno delo pomočnika je 72 000 SIT, za mojstra pa 125 200 SIT.

- Zapis dnevnic mojstra  $x + 0,565x = 1,565x$  ..... 1 točka  
 Zapis enačbe  $20 \cdot 1,565x + 18x = 197\,200$  ..... 2 točki  
 Rešitev  $x = 4000$  ..... 1 točka  
 Odgovora ..... 1 + 1 točka

## Drugi letnik

1. Ugotovimo, da širjenje virusa predstavlja linearno funkcijo za naravna števila, pri čemer je  $k = 0,5$ . Tako je enačba funkcije enaka  $y = 0,5x$ . Odgovor na drugo vprašanje dobimo iz sklepnega računa:

1 klik.....0,5 MB

$x$  klikov..... $2,5 \cdot 10^3$  MB.

Izračunamo  $x = \frac{1 \cdot 2,5 \cdot 10^3}{0,5} = 5 \cdot 10^3$ .

Zapis enačbe linearne funkcije za linearno naraščanje  $y = kx + n$  ..... 1 točka

Ugotovitev  $k = 0,5$  MB ..... 1 točka

Zapis enačbe  $y = 0,5x$  ..... 1 točka

Nastavitev sklepnega računa:

1 klik.....0,5 MB

$x$  klikov..... $2,5 \cdot 10^3$  MB ..... 1 točka

Izračun  $x = \frac{1 \cdot 2,5 \cdot 10^3}{0,5} = 5 \cdot 10^3$  ..... 1 točka

Zapis odgovora ..... 1 točka

2. Najprej rešimo enačbo  $\frac{(\sqrt[3]{2})^6 \cdot 2^{-6}}{0,5^2 \cdot 8^{-\frac{2}{3}}} = m \cdot \frac{1}{(\sqrt[3]{2})^9}$ . Leva stran enačbe je enaka  $\frac{2^2 \cdot 2^{-6}}{2^{-2} \cdot 2^{-2}} = 1$ , desna stran pa  $m \cdot 2^{-3}$ . Iz enakosti  $1 = m \cdot 2^{-3}$  izračunamo  $m = 8$ . Vstavimo  $m$  v predpis za funkcijo in dobimo enačbo premice  $y = 8x - 4$ . Narišemo njen graf.

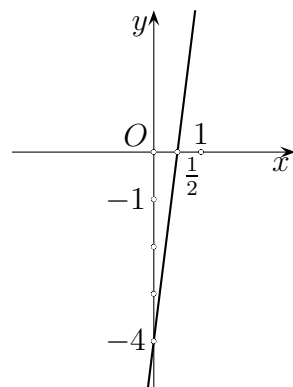
Izračunana leva stran enačbe  $\frac{2^2 \cdot 2^{-6}}{2^{-2} \cdot 2^{-2}} = 1$  ..... 2 točki

Izračunana desna stran enačbe  $m \cdot 2^{-3}$  ..... 1 točka

Izračun  $m = 8$  ..... 1 točka

Zapis enačbe premice  $y = 8x - 4$  ..... 1 točka

Narisan graf ..... 1 točka



3. Iz podatka  $x + y = 15$  izrazimo na primer  $y = 15 - x$ . Uporabimo kotno funkcijo  $\sin 30^\circ = \frac{x}{y}$ . Vstavimo  $y$  in dobimo  $\frac{1}{2} = \frac{x}{15-x}$ . Iz te enakosti izračunamo  $x = 5$  m. Izračunamo še  $y = 10$  m. Nato z uporabo Pitagorovega izreka izračunamo manjkajočo kateto  $z^2 = y^2 - x^2$ , katere dolžina je  $z = 5\sqrt{3}$ . Nato izračunamo obseg  $o = x + y + z = 15 + 5\sqrt{3}$ .

Izražen  $y = 15 - x$  ..... 1 točka

Zapis  $\sin 30^\circ = \frac{x}{y}$  ..... 1 točka

Izračun ene neznanke iz  $\frac{1}{2} = \frac{x}{15-x}$

$x = 5$  m ..... 1 točka

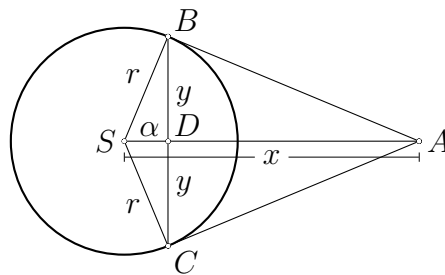
Izračun druge katete iz  $z^2 = y^2 - x^2$  ..... 1 točka

Izračun obsega  $o = x + y + z = 15 + 5\sqrt{3}$  ..... 1 točka

Odgovor ..... 1 točka



4. Narišemo skico: središče krožnice  $S$ , točka  $A$  izven krožnice, dotikališči  $B$  in  $C$ . Označimo kot  $\angle BSA$  z  $\alpha$ , razdaljo od  $S$  do  $A$  z  $x$  in razdaljo od  $B$  do  $C$  z  $2y$ . Ker je trikotnik  $ASB$  pravokoten, uporabimo kotno funkcijo  $\cos \alpha = \frac{r}{x}$ , iz česar izračunamo  $\alpha = 67,38^\circ$ . Tudi trikotnik  $DSB$  je pravokoten ( $D$  je presečišče daljic  $SA$  in  $BC$ ). Z uporabo kotne funkcije  $\sin \alpha = \frac{y}{r}$ , izračunamo  $y = r \cdot \sin \alpha = 4,6$ . Nato izračunamo razdaljo  $2y = 9,2$ .



Nalogo lahko rešimo drugače: ploščina pravokotnega trikotnika  $ASC$  je enaka  $\frac{1}{2}|CS| \cdot |CA| = \frac{1}{2}|AS| \cdot |CD|$ , od koder izrazimo  $|BC| = 2|CD| = \frac{2 \cdot |SC| \cdot \sqrt{|SA|^2 - |SC|^2}}{|SA|} = \frac{2r\sqrt{x^2 - r^2}}{x} = \frac{2 \cdot 5 \cdot 12}{13} \approx 9,2$ .

Narisana skica .....	1 točka
Zapis $\cos \alpha = \frac{r}{x} = \frac{5}{13}$ .....	1 točka
Izračuna kot $\alpha = 67,38^\circ$ .....	1 točka
Zapis $\sin \alpha = \frac{y}{r}$ .....	1 točka
Izračun $y = 4,6$ .....	1 točka
Izračunana razdalja $2y = 9,2$ .....	1 točka

5. Če uporabimo v prvem oklepaju pravilo  $a \cdot \sqrt{b} = \sqrt{a^2 b}$ , ki velja za  $a \geq 0$ , dobimo  $\left( (1-x)\sqrt{\frac{1+x}{1-x}} + 1-x \right) = \left( \sqrt{\frac{(1-x)^2(1+x)}{1-x}} + 1-x \right)$ , krajšamo in dobimo  $\left( \sqrt{(1-x)(1+x)} + 1-x \right) \cdot \left( \sqrt{\frac{1+x}{1-x}} - 1 \right)$ . Nato odpravimo oklepaja  $\sqrt{\frac{(1-x)(1+x)(1+x)}{1-x}} + \sqrt{\frac{(1-x)(1+x)}{1-x}} - \sqrt{(1-x)(1+x)} - (1-x)$ , zopet krajšamo ter dobimo  $\sqrt{(1+x)^2 - 1+x}$ . Upoštevamo pogoj  $\sqrt{a^2} = |a|, a \in \mathfrak{R}$ . Ker pa je  $1+x \geq 0$ , imamo rešitev:  $1+x - 1+x = 2x$ .

Nalogo lahko rešimo drugače: ker je  $\left( (1-x)\sqrt{\frac{1+x}{1-x}} + 1-x \right) = (1-x)\left(\sqrt{\frac{1+x}{1-x}} + 1\right)$ , lahko zapišemo  $\left( (1-x)\sqrt{\frac{1+x}{1-x}} + 1-x \right) \cdot \left( \sqrt{\frac{1+x}{1-x}} - 1 \right) = (1-x)\left(\sqrt{\frac{1+x}{1-x}} - 1\right) = (1-x)\left(\left|\frac{1+x}{1-x}\right| - 1\right) = (1-x)\left(\frac{1+x}{1-x} - 1\right) = 2x$ , kjer smo lahko opustili absolutno vrednost zaradi predpostavke  $-1 \leq x < 1$ .

1. način: Ureditev izraza v prvem oklepaju  $\left( (1-x)\sqrt{\frac{1+x}{1-x}} + 1-x \right) = \left( \sqrt{\frac{(1-x)^2(1+x)}{1-x}} + 1-x \right)$  in krajšanje .....

Pravilna odprava oklepaja  $\sqrt{\frac{(1-x)(1+x)(1+x)}{1-x}} + \sqrt{\frac{(1-x)(1+x)}{1-x}} - \sqrt{(1-x)(1+x)} - (1-x)$  .....

Ureditev izraza do  $\sqrt{(1+x)^2 - 1+x} \left( (1-x)\sqrt{\frac{1+x}{1-x}} + 1-x \right)$  .....

Uporaba pogoja  $|1+x|$  .....

Zapisana rešitev:  $1+x - 1+x = 2x$ , ker je  $1+x \geq 0$  .....

Utemeljitev, da druge rešitve ni, saj  $1+x$  ne more biti negativen .....

2. način:

Izpostavljen skupni faktor  $(1-x)\left(\sqrt{\frac{1+x}{1-x}} + 1\right)\left(\sqrt{\frac{1+x}{1-x}} - 1\right)$  .....

- Poenostavitev do  $(1-x)\left(\sqrt{\left(\frac{1+x}{1-x}\right)^2} - 1\right)$  ..... 1 točka
- Upoštevanje  $\sqrt{a^2} = |a|, a \in \mathfrak{R}$  ..... 1 točka
- Zapis pogoja in izračun:
- $(1-x)\left(\frac{1+x}{1-x} - 1\right) = 1+x - 1+x = 2x$ , ker je  $1+x \geq 0$  ..... 1 točka
- Utemeljitev, da druge rešitve ni, saj  $1+x$  ne more biti negativen ..... 1 točka
- Odprava ulomka pri katerem koli pogoju ..... 1\* točka

### Tretji letnik

1. Ker je  $g(x) = f(x + 1)$ , dobimo  $g(x)$  tako, da v  $f(x)$  vstavimo  $x + 1$  namesto  $x$ . Tako dobimo  $g(x) = 3^{x+1}$ . Podobno dobimo  $h(x) = 4 \cdot 3^x - 3$ . Presečišča grafov funkcij  $g(x)$  in  $h(x)$  dobimo tako, da enačimo enačbi obeh funkcij. Dobimo enačbo  $3^{x+1} = 4 \cdot 3^x - 3$ . Enačbo uredimo in dobimo rešitev  $x = 1$ . Nato izračunamo še  $y$ . Dobimo presečišče  $P(1, 9)$ .

Zapis funkcije $g(x) = 3^{x+1}$ .....	1 točka
Zapis funkcije $h(x) = 4 \cdot 3^x - 3$ .....	1 točka
Nastavitev enačbe $3^{x+1} = 4 \cdot 3^x - 3$ .....	1 točka
Poenostavitev enačbe $3 = 3^x$ .....	1 točka
Rešitev: $x = 1$ .....	1 točka
Zapis presečišča $P(1, 9)$ .....	1 točka

2. Enačbo najpraj kvadriramo, pa dobimo  $x^{\log \sqrt{x}} = 100$ . Nato jo še logaritmiramo  $\log \sqrt{x} \cdot \log x = \log 100$ . Enačbo uredimo, dobimo  $\frac{1}{2}(\log x)^2 = 2$ . Ugotovimo, da je  $\log x = \pm 2$ , in dobimo rešitvi  $x_1 = 100$ ,  $x_2 = \frac{1}{100}$ .

Kvadriranje prvotne enčbe $x^{\log \sqrt{x}} = 100$ .....	1 točka
Logaritmiranje $\log \sqrt{x} \cdot \log x = \log 100$ .....	1 točka
Preureditev enačbe v obliko $\frac{1}{2}(\log x)^2 = 2$ .....	1 točka
Ugotovitev $\log x = \pm 2$ .....	1 točka
Rešitvi $x_1 = 100$ , $x_2 = \frac{1}{100}$ .....	1 + 1 točka

3. Iz razlike obsegov kvadratov ugotovimo  $a_1 - a_2 = 2$ . Iz razlike ploščin kvadratov, dobimo  $a_1^2 - a_2^2 = 16$ , kar lahko razstavimo v  $(a_1 + a_2)(a_1 - a_2) = 16$ . Ker je  $a_1 - a_2 = 2$ , sledi da je  $a_1 + a_2 = 8$ . Iz sistema enačb  $a_1 - a_2 = 2$ ,  $a_1 + a_2 = 8$ , dobimo rešitvi  $a_1 = 3$  cm in  $a_2 = 5$  cm. Izračunamo ploščini obeh kvadratov  $a_1^2 = 9$  cm<sup>2</sup> in  $a_2^2 = 25$  cm<sup>2</sup>. Vsota ploščin je 34 cm<sup>2</sup>.

Ugotovitev $4a_1 - 4a_2 = 8 \Rightarrow a_1 - a_2 = 2$ .....	1 točka
Upoštevanje razlike kvadratov ploščin	
$a_1^2 - a_2^2 = 16 \Rightarrow (a_1 + a_2)(a_1 - a_2) = 16$ .....	1 točka
Zapis $a_1 + a_2 = 8$ .....	1 točka
Izračun:	
$a_1 = 3$ cm .....	1 točka
$a_2 = 5$ cm .....	1 točka
Odgovor: Vsota njunih ploščin je 34 cm <sup>2</sup> .....	1 točka

4. Rešimo enačbo  $\log_{x-2}(10x - 44) = 2$ . Upoštevamo definicijo logaritma in dobimo  $(x - 2)^2 = 10x - 44$ . Enačbo uredimo in dobimo  $x^2 - 14x + 48 = 0$ . Rešitvi enačbe sta  $x = 6$  in  $x = 8$ . Tako sta dolžini katet trikotnika enaki  $a = 6$  cm in  $b = 8$  cm. Po Pitagorovem izreku izračunamo dolžino hipotenuze, ki meri  $c = 10$  cm. Višina prizme je enaka  $c$ . Prostornina prizme je  $V = S \cdot v = \frac{a \cdot b}{2} \cdot c = 240$  cm<sup>3</sup>. Površina prizme je  $P = 2S + S_{pl} = 288$  cm<sup>2</sup>.

Zapis enačbe $(x - 2)^2 = 10x - 44$ .....	1 točka
Urejena enačba $x^2 - 14x + 48 = 0$ .....	1 točka

Zapis npr. $a = 6$ cm in $b = 8$ cm .....	1 točka
Izračunana hipotenuza $c = 10$ cm .....	1 točka
Izračuna prostornina $240$ cm <sup>3</sup> .....	1 točka
Izračunana površina $288$ cm <sup>2</sup> .....	1 točka

5. Sedanja cena naj bo  $x$ . Nastavimo enačbo  $4 \cdot (x + x \cdot \frac{x}{100}) = 429$ . Enačbo poenostavimo in dobimo  $x^2 + 100x - 10725 = 0$ . Rešitvi enačbe sta  $x = 65$  in  $x = -165$ . Upoštevamo pozitivno rešitev. Štirje paketi sztanejo  $4 \cdot 65 = 260$  tolarjev.

Nastavitev enačbe $4 \cdot (x + x \cdot \frac{x}{100}) = 429$ .....	2 točki
Odprava ulomka in oklepaja $400x + 4x^2 = 42900$ .....	1 točka
Ureditev enačbe $x^2 + 100x - 10725 = 0$ .....	1 točka
Rešitev $x = 65$ .....	1 točka
Odgovor .....	1 točka

## Četrty letnik

1. Logaritemsko enačbo preoblikujemo v  $\frac{(x+2)^2}{x} = 3^2$ , preuredimo v  $\frac{x^2+4x+4}{x} = 9$  oziroma  $x^2 - 5x + 4 = 0$  in razstavimo  $(x - 4)(x - 1) = 0$ . Dobimo rešitvi  $x_1 = 4$  in  $x_2 = 1$ . Nato še eksponentno enačbo preuredimo v  $5^{2x} = 5^{-3}$ . Rešitev te enačbe je  $x = -\frac{3}{2}$ . Iz vseh rešitev danih enačb zapišemo polinom  $p(x) = a(x - 4)(x - 1)(x + \frac{3}{2})$ . Uporabimo koordinate točke  $(2, 7)$  in izračunamo vodilni koeficient  $a = -1$ . Nato polinom zapišemo v ničelni obliki  $p(x) = -(x - 4)(x - 1)(x + \frac{3}{2})$ .

Preoblikovanje logaritemске enačbe do  $x^2 - 5x + 4 = 0$  ..... 1 točka  
 Rešitvi enačbe  $x_1 = 4$  in  $x_2 = 1$  ..... 1 točka  
 Preoblikovanje eksponentne enačbe  $5^{2x} = 5^{-3}$  ..... 1 točka  
 Rešitev  $x = -\frac{3}{2}$  ..... 1 točka  
 Zapis polinoma  $p(x) = a(x - 4)(x - 1)(x + \frac{3}{2})$  ..... 1 točka  
 Zapis polinoma  $p(x) = -(x - 4)(x - 1)(x + \frac{3}{2})$  ..... 1 točka

2. Vodoravna asimptota dane funkcije je  $y = 2$ . Da dobimo presečišče, moramo enačiti  $f(x)$  z asimptoto. Dobimo enačbo  $\frac{2x^3+x+1}{x^3+1} = 2$ . Enačbo rešimo tako, da odpravimo ulomek in upoštevamo pogoj  $x \neq -1$ . Dobimo enačbo  $2x^3 + x + 1 = 2x^3 + 2$ , ki jo rešimo. Rešitev je  $x = 1$ . Ordinata presečišča je kar vrednost asimptote, tako je  $P(1, 2)$ .

Zapis enačbe asimptote  $y = 2$  ..... 1 točka  
 Zapisana enačba  $f(x) = 2$  ali  $\frac{2x^3+x+1}{x^3+1} = 2$  ..... 1 točka  
 Pravilna odprava ulomka in zapis pogoja  $x \neq -1$  ..... 1 + 1 točka  
 Rešitev enačbe  $x = 1$  ..... 1 točka  
 Zapisano presečišče  $P(1, 2)$  ..... 1 točka

3. Najprej uporabimo obrazec za izračun povprečne vrednosti statistične spremenljivke  $\bar{x} = \frac{x_1f_1+x_2f_2+x_3f_3}{f_1+f_2+f_3}$ . Vstavimo dane podatke in upoštevamo, da je  $f_2 = f_x$ . Odpravimo ulomek in dobimo  $72 + 4,5f_x = 104 + 4f_x$ . Rešitev enačbe je  $f_x = 64$ .

Zapis obrazca  $\bar{x} = \frac{x_1f_1+x_2f_2+x_3f_3}{f_1+f_2+f_3}$  ..... 1 točka  
 Zapis enačbe  $4,5 = \frac{3 \cdot 8 + 4 \cdot f_x + 10 \cdot 8}{8 + f_x + 8}$  ..... 2 točki  
 Odprava ulomka  $72 + 4,5 \cdot f_x = 104 + 4 \cdot f_x$  ..... 1 točka  
 Zapis  $0,5 \cdot f_x = 32$  ..... 1 točka  
 Rešitev  $f_x = 64$  ..... 1 točka

4. Najprej izračunamo ordinati danih točk:  $f(\frac{\pi}{3}) = \sin \frac{\pi}{3} = \frac{\sqrt{3}}{2}$  in  $f(\frac{\pi}{6}) = \sin \frac{\pi}{6} = \frac{1}{2}$ . Nato izračunamo smerni koeficient  $k = \frac{\frac{1}{2} - \frac{\sqrt{3}}{2}}{\frac{\pi}{6} - \frac{\pi}{3}}$ . Zapis poenostavimo  $k = \frac{3(\sqrt{3}-1)}{\pi}$ . Nato v enačbo premice vstavimo ustrezne podatke  $y = k(x - x_1) + y_1 = \frac{3(\sqrt{3}-1)}{\pi}(x - \frac{\pi}{3}) + \frac{\sqrt{3}}{2}$ . Zapis poenostavimo in dobimo  $y = \frac{3(\sqrt{3}-1)}{\pi}x + 1 - \frac{\sqrt{3}}{2}$ .

Določitev ordinate točke A:  $f(\frac{\pi}{3}) = \sin \frac{\pi}{3} = \frac{\sqrt{3}}{2}$  ..... 1 točka  
 Določitev ordinate točke B:  $f(\frac{\pi}{6}) = \sin \frac{\pi}{6} = \frac{1}{2}$  ..... 1 točka  
 Izračun smernega koeficienta  $k = \frac{\frac{1}{2} - \frac{\sqrt{3}}{2}}{\frac{\pi}{6} - \frac{\pi}{3}}$  ..... 1 točka

Poenostavljen zapis smernega koeficienta  $k = \frac{3(\sqrt{3}-1)}{\pi}$  ..... 1 točka  
 Vstavljeni podatki v enačbo premice ..... 1 točka  
 Poenostavitev enačbe  $y = \frac{3(\sqrt{3}-1)}{\pi}x + 1 - \frac{\sqrt{3}}{2}$  ..... 1 točka

5. Uporabimo obrazec za površino kocke  $P = 6a^2$ . Ugotovimo, da je površina najmanjše kocke prvi člen geometrijskega zaporedja  $a_1 = 6 \cdot 5^2$ . V obrazec za vsoto prvih petih površin kock vstavimo podatke  $S_5 = \frac{6 \cdot 5^2(4^5-1)}{4-1}$ . Izračunamo vsoto  $S_5 = 51150 \text{ cm}^2$ . Nato v obrazec za peti člen zaporedja vstavimo ustrezne podatke  $a_5 = 6 \cdot 5^2 \cdot 4^4$ . Nato izračunamo površine  $P_5 = 38400 \text{ cm}^2$ .

Uporaba obrazca za površino kocke  $P = 6a^2$  ..... 1 točka  
 Zapis prvega člena geometrijskega zaporedja  $a_1 = 6 \cdot 5^2$  ..... 1 točka  
 Vstavljeni podatki v obrazec za vsoto  $S_5 = \frac{6 \cdot 5^2(4^5-1)}{4-1}$  ..... 1 točka  
 Izračun vsote  $S_5 = 51150 \text{ cm}^2$  ..... 1 točka  
 Vstavljeni podatki v obrazec za peti člen  $a_5 = 6 \cdot 5^2 \cdot 4^4$  ..... 1 točka  
 Izračun površine  $P_5 = 38400 \text{ cm}^2$  ..... 1 točka