

**Društvo matematikov, fizikov  
in astronomov Slovenije**

Jadranska ulica 19  
1000 Ljubljana

# **Tekmovalne naloge DMFA Slovenije**

Društvo matematikov, fizikov in astronomov Slovenije dovoljuje shranitev v elektronski obliki, natis in uporabo gradiva v tem dokumentu **za lastne potrebe učenca/dijaka/študenta in za potrebe priprav na tekmovanje na šoli, ki jo učenec/dijak/študent obiskuje**. Vsakršno drugačno reproduciranje ali distribuiranje gradiva v tem dokumentu, vključno s tiskanjem, kopiranjem ali shranitvijo v elektronski obliki je prepovedano.

Še posebej poudarjamo, da **dokumenta ni dovoljeno javno objavljati na drugih spletnih straneh** (razen na [www.dmfa.si](http://www.dmfa.si)), dovoljeno pa je dokument hraniti na npr. spletnih učilnicah šole, če dokument ni javno dostopen.

## NALOGE ZA 1. LETNIK

1. Vemo, da je  $A = \frac{a^{-2} - b^{-2}}{a^{-1} - b^{-1}}$   
in  $B = \left( \frac{a^{-1}}{a^{-1} - b^{-1}} - \frac{b^{-1}}{a^{-1} + b^{-1}} \right) \cdot (a^{-1} - b^{-1}) \cdot (a^{-2} + b^{-2})^{-1}$ .

Dokaži, da je  $A = B^{-1}$ .

2. Trije razredi so zbirali papir. Razred  $A$  je zbral 20 % več papirja kot razred  $B$ , razred  $B$  pa 20 % manj papirja kot razred  $C$ . Koliko kilogramov papirja so zbrali posamezni razredi, če je skupaj zbranih 759 kg papirja? Zapiši odgovor.
3. Točka  $T(a + \sqrt{2}, \sqrt{2} - a)$  naj bo enako oddaljena od točk  $A(-\sqrt{2}, \sqrt{2})$  in  $B(\sqrt{2}, -\sqrt{2})$ .
- a) Določi vrednost parametra  $a$ .
- b) Izračunaj ploščino trikotnika  $ABT$ .

4. Naloga iz zbirke *LILAVATI*, indijskega matematika Bhaskare:

*Za zmeraj isto sem ceno kupil zate  
teh osem rubinov, zatem smaragdov deset  
in nazadnje še biserov sto,  
ki nosiš jih zdaj na uhanih.*

*Če zberem skupaj po enega  
iz vrste vsake žlahtnih kamnov teh,  
bo njih cena le za kovance tri manjša,  
kot je polovica od sto.*

*O, vedro dekle,  
če si v računanju spretna dovolj, le brž povej mi,  
koliko je kovancev tedaj vsak od teh kamnov me stal.*

5. Dokaži, da vsota petih zaporednih naravnih števil ne more biti praštevilo.

---

Naloge rešuj samostojno na priloženi papir, in sicer vsako nalogo na svojo stran.

Na liste se ne podpisuj, napiši le svojo šifro.

Izdelek piši s črnilom čitljivo in pregledno. Rešitev vsake naloge bo ocenjena z 0 do 6 točkami.

**Za reševanje imaš na voljo 120 min.**

DRŽAVNA TEKMOVALNA KOMISIJA TI ŽELI VELIKO USPEHA.

## NALOGE ZA 2. LETNIK

1. Poenostavi izraz

$$\left( x + \sqrt[3]{3 \cdot \sqrt{\frac{x^3 - 1}{9} + \frac{x - x^2}{3}}} \right) \cdot (x - \sqrt{x - 1}).$$

2. Dani sta premici z enačbama  $(1 - a)x - 2ay - 2 = 0$  in  $-2x + ay - 1 = 0$ . Določi  $a$  tako, da se bosta premici sekali na simetrali lihih kvadrantov.
3. V pravilnem šestkotniku  $ABCDEF$  s stranico dolžine  $a$  se nosilki stranic  $AF$  in  $DE$  sekata v točki  $T$ . Natančno izračunaj dolžino daljice  $BT$ .
4. Dan je trapez s podatki  $a = 7$ ,  $b = 4$ ,  $c = 3$  in  $\beta = 90^\circ$ . Izračunaj kot med diagonalama trapeza na stotinko stopinje natančno.
5. Dani funkciji  $f(x) = \frac{3 - 2a}{a + 5}x + \frac{2a - 1}{3 - a}$  določi parameter  $a$  tako, da bo graf funkcije sekal ordinatno os nad koordinatnim izhodiščem in da bo funkcija padajoča.

---

Naloge rešuj samostojno na priloženi papir, in sicer vsako nalogo na svojo stran.

Na liste se ne podpisuj, napiši le svojo šifro.

Izdelek piši s črnilom čitljivo in pregledno. Rešitev vsake naloge bo ocenjena z 0 do 6 točkami.

**Za reševanje imaš na voljo 120 min.**

DRŽAVNA TEKMOVALNA KOMISIJA TI ŽELI VELIKO USPEHA.

## NALOGE ZA 3. LETNIK

1. Poslovodja je nabavil puloverje in zanje plačal 960 tisočakov. V trgovini jih je prodajal po 12 tisočakov. Dobiček, ki ga je ustvaril pri prodaji vseh puloverjev, je bil enak znesku, ki ga je dal za 60 puloverjev. Koliko puloverjev je nabavil? Zapiši odgovor.
2. Reši sistem enačb  $3^x \cdot 2^y = 648$  in  $\log_3(x - y) = 0$ .
3. Reši enačbo  $\log_x(5 \cdot \sqrt{5}) - \frac{5}{4} = (\log_x \sqrt{5})^2$ .
4. Zapiši enačbo polinoma 3. stopnje (lahko tudi v razstavljeni obliki), katerega graf poteka skozi točke  $A(4, -5)$ ,  $B(-1, 0)$ ,  $C(0, 5)$  in  $D(5, 0)$ . Skiciraj graf polinoma.
5. Poišči vse celoštevilске rešitve enačbe  $x^2 + 73 = y^2$ .

---

Naloge rešuj samostojno na priloženi papir, in sicer vsako nalogo na svojo stran.

Na liste se ne podpisuj, napiši le svojo šifro.

Izdelek piši s črnilom čitljivo in pregledno. Rešitev vsake naloge bo ocenjena z 0 do 6 točkami.

**Za reševanje imaš na voljo 120 min.**

DRŽAVNA TEKMOVALNA KOMISIJA TI ŽELI VELIKO USPEHA.

## NALOGE ZA 4. LETNIK

1. Dana je funkcija  $f(x) = \cos x - \sin x$ .
  - a) Pokaži, da funkcija ni niti soda niti liha.
  - b) Pokaži, da je  $f(x) = -\sqrt{2} \sin(x - \frac{\pi}{4})$ , in zapiši zalogo vrednosti.
2. Dokaži, da sestavljajo razlike kvadratov zaporednih naravnih števil aritmetično zaporedje.
3. Ženin in nevesta sta naročila trinadstropno torto iz treh enako visokih tort na med seboj povezanih in enako oddaljenih podstavkih. Razmik med sosednjima podstavkoma je bil 11 cm, trinadstropna torta pa je bila visoka 30 cm. Spodnja torta je bila največja, premer vsake naslednje pa je bil za 6 cm krajši od premera prejšnje.

S trinadstropno torto sta nahranila sebe in še 28 svatov. Upoštevaj, da je vsak v povprečju pojedel 24 dag torte in da  $77\pi \text{ cm}^3$  torte tehta 10 dag. Kolik je bil polmer spodnje (največje) torte?
4. Poišči ničle funkcije  $f(x) = \sqrt{1 - \cos^2 2x}$  in nariši njen graf na intervalu  $[-\pi, 2\pi]$ .
5. (Naloga je na hrbtni strani tega lista.)

---

Naloge rešuj samostojno na priloženi papir, in sicer vsako nalogo na svojo stran.

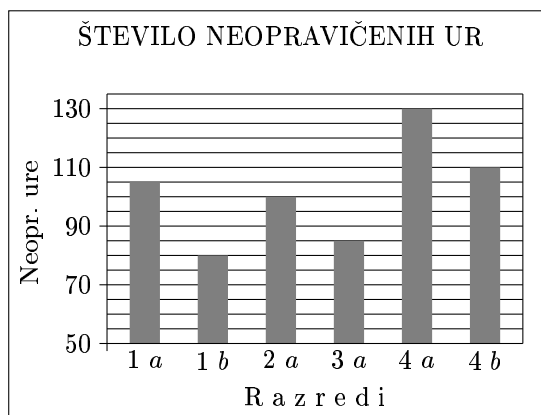
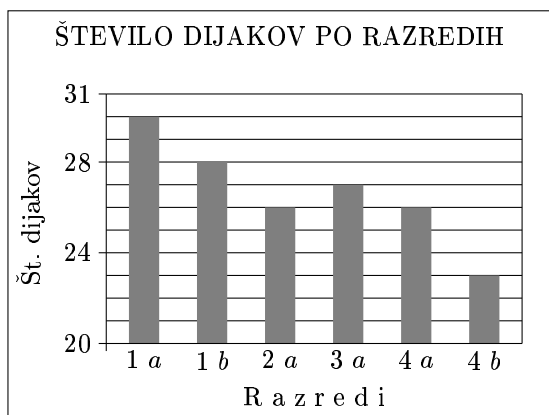
Na liste se ne podpisuj, napiši le svojo šifro.

Izdelek piši s črnilom čitljivo in pregledno. Rešitev vsake naloge bo ocenjena z 0 do 6 točkami.

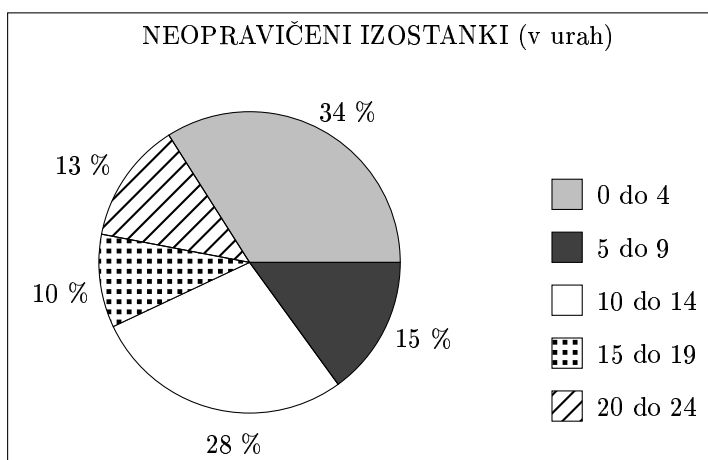
**Za reševanje imaš na voljo 120 min.**

DRŽAVNA TEKMOVALNA KOMISIJA TI ŽELI VELIKO USPEHA.

5. Na dveh šolah so neopravičene izostanke prikazali z grafikoni. Na prvi šoli (šoli A) so podatke prikazali z dvema histogramoma:



Na drugi šoli (šoli B), na kateri je 200 dijakov, so podatke prikazali s strukturnim krogom:



a) Za vsako šolo razvrsti podatke v ustrezno preglednico.

Šola A:

Razred	Število dijakov	Neopr. ure
1a		
1b		
2a		
3a		
4a		
4b		

Šola B:

Frekvenčni razred	Odstotek	Število dijakov	Povprečje razreda	Zmnožek
0 – 4				
5 – 9				
10 – 14				
15 – 19				
20 – 24				

b) Koliko znaša povprečno število neopravičenih ur na dijaka na posamezni šoli? Zapiši odgovor.

## Rešitve nalog in točkovnik

**Tekmovalec, ki je prišel po katerikoli pravilni metodi do rešitve (četudi točkovnik take ne predvideva), dobi vse možne točke.**

Za pravilno metodo se upošteva vsak postopek, ki

- smiselno upošteva besedilo naloge,
- vodi k rešitvi problema,
- je matematično pravilen in popoln.

Tekmovalec, ki je le delno rešil nalogo, iz sicer pravilnih postopkov reševanja pa ni videti poti do končne rešitve naloge, ne more dobiti več kot polovico možnih točk.

### Prvi letnik

1. Najprej poenostavimo izraz  $A$ :  $\frac{\frac{b^2-a^2}{a^2b^2}}{\frac{b-a}{ab}} = \frac{(b-a)(b+a)}{(b-a)ab} = \frac{b+a}{ab}$ , nato pa še izraz  $B$ :

$$\left(\frac{\frac{1}{a}}{\frac{b-a}{ab}} - \frac{\frac{1}{b}}{\frac{b+a}{ab}}\right) \cdot \frac{b-a}{ab} \cdot \frac{1}{\frac{b^2+a^2}{a^2b^2}} = \left(\frac{b}{b-a} - \frac{a}{b+a}\right) \cdot \frac{ab(b-a)}{b^2+a^2} = \frac{b^2+ab-ab+a^2}{(b-a)(b+a)} \cdot \frac{ab(b-a)}{b^2+a^2} = \frac{ab}{b+a}$$

Vidimo, da res velja  $A = B^{-1}$ .

Zapis:  $A = \frac{\frac{b^2-a^2}{a^2b^2}}{\frac{b-a}{ab}} \dots\dots\dots 1$  točka

Zapis:  $A = \frac{b+a}{ab} \dots\dots\dots 1$  točka

Poenostavljanje prvega oklepaja do oblike:  $\frac{b}{b-a} - \frac{a}{a+b} \dots\dots\dots 1$  točka

Zapis zveze:  $(a^{-2} + b^{-2})^{-1} = \frac{a^2b^2}{a^2 + b^2} \dots\dots\dots 1$  točka

Zapis:  $B = \frac{ab}{b+a} \dots\dots\dots 1$  točka

Sklep:  $A = B^{-1} \dots\dots\dots 1$  točka

2. Denimo, da je razred  $C$  zbral  $x$  kg papirja. Tedaj je razred  $B$  zbral  $0.8x$  kg papirja, razred  $A$  pa  $1.2 \cdot 0.8 \cdot x = 0.96x$  kg papirja. Velja  $x + 0.8x + 0.96x = 759$ , od koder izračunamo  $x = 275$ , nato pa še  $0.8x = 220$  in  $0.96x = 264$ . Razred  $A$  je zbral 264 kg papirja, razred  $B$  220 kg in razred  $C$  275 kg papirja.

Razred C:  $x$ , razred B:  $0,8x \dots\dots\dots 1$  točka

Razred A:  $1,2 \cdot 0,8x = 0,96x \dots\dots\dots 1$  točka

Zapis enačbe:  $x + 0,8x + 1,2 \cdot 0,8x = 759 \dots\dots\dots 1$  točka

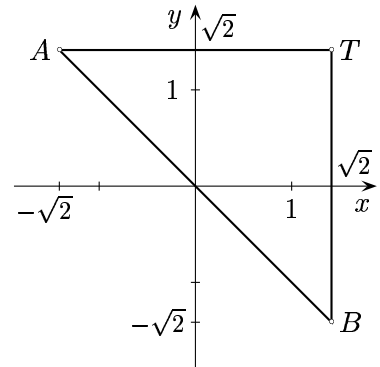
Rešitev enačbe:  $x = 275 \dots\dots\dots 1$  točka

Razred C: 275 kg, razred B: 220 kg, razred A: 264 kg  $\dots\dots\dots 1$  točka

Odgovor  $\dots\dots\dots 1$  točka

3. Da bo točka  $T$  enako oddaljena od točk  $A$  in  $B$ , mora veljati  $\sqrt{(a + \sqrt{2} + \sqrt{2})^2 + (\sqrt{2} - a - \sqrt{2})^2} = \sqrt{(a + \sqrt{2} - \sqrt{2})^2 + (\sqrt{2} - a + \sqrt{2})^2}$ , od koder dobimo  $a^2 + 4a\sqrt{2} + 8 + a^2 = a^2 + 8 - 4a\sqrt{2} + a^2$  oziroma  $8a\sqrt{2} = 0$  in končno  $a = 0$ .

Točke  $A$ ,  $B$  in  $T$  so oglišča enakokrakega pravokotnega trikotnika s katetama dolžine  $2\sqrt{2}$ . Ploščina tega trikotnika je  $\frac{2\sqrt{2} \cdot 2\sqrt{2}}{2} = 4$ .



- (a) Zapis:  $d(A, T) = d(B, T)$  ..... 1 točka  
 Zapis  $\sqrt{(a + \sqrt{2} + \sqrt{2})^2 + (\sqrt{2} - a - \sqrt{2})^2} = \sqrt{(a + \sqrt{2} - \sqrt{2})^2 + (\sqrt{2} - a + \sqrt{2})^2}$  ..... 1 točka  
 Poenostavitev enakosti do oblike  $8a\sqrt{2} = 0$  ..... 1 točka  
 Izračun  $a = 0$  ..... 1 točka  
 (b) Zapis obrazca za računanje ploščine trikotnika ..... 1 točka  
 Izračunana ploščina trikotnika: 4 ..... 1 točka

4. Denimo, da je rubin stal  $x$  kovancev, smaragd  $y$  kovancev in biser  $z$  kovancev. Prvi del naloge pove, da je  $8x = 10y = 100z$ , od koder lahko izrazimo  $x = \frac{25}{2}z$  in  $y = 10z$ . Besedilo drugega dela naloge prepisemo v enačbo  $x + y + z = \frac{100}{2} - 3$ . Zapišemo torej lahko  $\frac{25}{2}z + 10z + z = 47$  in izrazimo  $z = 2$ . Biser je stal 2 kovanca, smaragd 20 kovancev, rubin pa 25 kovancev.

- Vpeljava neznank:  $x$ -rubin,  $y$ -smaragd,  $z$ -biser ..... 1 točka  
 Nastavitev enakosti  $8x = 10y = 100z$  ..... 1 točka  
 Nastavitev enačbe  $x + y + z = 47$  ..... 1 točka  
 Izraženi dve neznanki z isto neznanko ..... 1 točka  
 Vstavljanje izraženih neznank v enačbo ..... 1 točka  
 Rešitve:  $x = 25$ ,  $y = 20$  in  $z = 2$  ..... 1 točka

5. Če vzamemo pet zaporednih naravnih števil  $n - 2$ ,  $n - 1$ ,  $n$ ,  $n + 1$  in  $n + 2$ , je  $n \geq 3$ , vsota teh števil pa je  $5n$ . Število  $5n$  je za  $n \geq 3$  sestavljeno.

Če vzamemo pet zaporednih naravnih števil  $n$ ,  $n + 1$ ,  $n + 2$ ,  $n + 3$  in  $n + 4$ , je  $n \geq 1$ , vsota teh števil pa je  $5n + 10 = 5(n + 2)$ . Število  $5(n + 2)$  je za  $n \geq 1$  sestavljeno, saj je  $n + 2 \geq 3$ .

- Oznaka petih naravnih števil:  $n, n + 1, n + 2, n + 3, n + 4$  ..... 1 točka  
 Zapis vsote  $5n + 10 = 5(n + 2)$  ..... 1 + 1 točka  
 Sklep:  $n + 2 \geq 3$  za vsako naravno število  $n$  ..... 2 točki  
 Sklep: produkt  $5(n + 2)$  je sestavljeno število ..... 1 točka  
 ALI  
 Zapis:  $n - 2, n - 1, n, n + 1, n + 2$  ..... 1 točka  
 Sklep  $n \geq 3$  za vsako naravno število  $n$  ..... 2 točki  
 Zapis vsote  $n - 2 + n - 1 + n + n + 1 + n + 2$  ..... 1 točka  
 Vsota:  $5n$  ..... 1 točka  
 Sklep:  $5n$  je sestavljeno število ..... 1 točka



## Drugi letnik

1. Izraz poenostavimo:  $\left(x + \sqrt[3]{3 \cdot \sqrt{\frac{x^3-1}{9} + \frac{x-x^2}{3}}}\right) \cdot (x - \sqrt{x-1}) = \left(x + \sqrt[3]{3 \cdot \sqrt{\frac{x^3-1+3x-3x^2}{9}}}\right) \cdot (x - \sqrt{x-1}) = \left(x + \sqrt[6]{3^2 \cdot \frac{x^3-1+3x-3x^2}{9}}\right) \cdot (x - \sqrt{x-1}) = (x + \sqrt[6]{(x-1)^3}) \cdot (x - \sqrt{x-1}) = (x + \sqrt{x-1}) \cdot (x - \sqrt{x-1}) = x^2 - x + 1.$

Razširjanje na skupni imenovalec  $\sqrt[3]{3 \cdot \sqrt{\frac{x^3-1+3x-3x^2}{9}}}$  ..... 1 točka

Sklep  $\sqrt[6]{3^2 \cdot \frac{x^3-1+3x-3x^2}{9}}$  ..... 1 točka

Zapis  $\sqrt[6]{(x-1)^3}$  ..... 1 točka

Sklep  $\sqrt[6]{(x-1)^3} = \sqrt{x-1}$  ..... 1 točka

Množenje oklepajev ..... 1 točka

Rezultat  $x^2 - x + 1$  ..... 1 točka

2. Če je  $a = 0$ , sta premici med seboj vzporedni (njuni enačbi sta tedaj  $x-2 = 0$  in  $2x+1 = 0$ ), zato privzemimo, da  $a \neq 0$ . Izrazimo  $y = \frac{(1-a)x-2}{2a}$  iz prve in  $y = \frac{2x+1}{a}$  iz druge enačbe. Izenačimo dobljeni desni strani  $\frac{(1-a)x-2}{2a} = \frac{2x+1}{a}$  in enačbo preuredimo v  $(-a-3)x = 4$ , od koder izrazimo  $x = -\frac{4}{a+3}$ , če je  $a \neq -3$  (prepričamo se lahko, da predstavljata dani enačbi dve vzporedni premici, če upoštevamo  $a = -3$ ). Izrazimo še ordinato presečišča:  $y = \frac{a-5}{a(a+3)}$ . Vsaka točka na simetrali lihih kvadrantov ima absciso enako ordinati, zato mora veljati  $-\frac{4}{a+3} = \frac{a-5}{a(a+3)}$ , od tod pa končno dobimo  $a = 1$ .

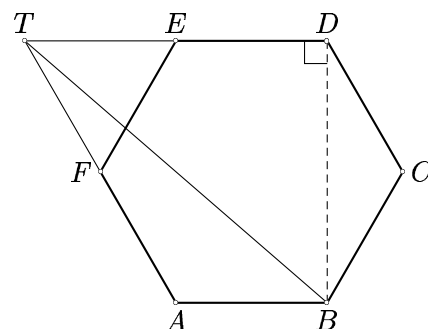
Enačba simetrale  $y = x$  ..... 1 točka

Pretvorba na sistem dveh enačb z dvema neznankama ..... 1 točka

Pravilno reševanje sistema dveh enačb z dvema neznankama ..... 3 točke

Rešitev  $a = 1$  ..... 1 točka

3. S skice razberemo, da je  $|DT| = 2a$ ,  $|BD|$  pa je enaka dolžini dveh višin enakostraničnega trikotnika s stranico  $a$ , torej  $|BD| = a\sqrt{3}$ . Dolžino daljice  $BT$  izračunamo po Pitagorovem izreku:  $|BT| = \sqrt{|DT|^2 + |BD|^2} = \sqrt{4a^2 + 3a^2} = a\sqrt{7}$ .



Skica ..... 1 točka

Zapis  $d(B, T)^2 = d(B, D)^2 + d(D, T)^2$  ..... 1 točka

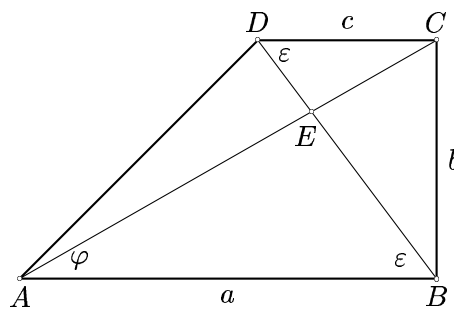
Sklep  $d(B, D) = 2v_a, v_a = \frac{a\sqrt{3}}{2}$  ..... 1 točka

Sklep  $d(D, T) = 2a$  ..... 1 točka

Pravilno kvadriranje zveze  $|BT|^2 = (a\sqrt{3})^2 + (2a)^2$  ..... 1 točka

Rezultat  $d(B, T) = a\sqrt{7}$  ..... 1 točka

4. Označimo  $\varphi = \angle BAC$  in  $\varepsilon = \angle ABD = \angle BDC$ . V pravokotnih trikotnikih  $ABC$  in  $BCD$  dobimo  $\operatorname{tg} \varphi = \frac{4}{7}$  oziroma  $\operatorname{tg} \varepsilon = \frac{4}{3}$ , tako da je  $\varphi = 29.74^\circ$  in  $\varepsilon = 53.13^\circ$  ter  $\angle AEB = 97.13^\circ$ . Kot med diagonalama je  $82.87^\circ$ .



Skica z označenim presečiščem diagonal E ter

kotoma $\varphi = \angle BAC$ in $\varepsilon = \angle ABD$ .....	1 točka
Sklep $\operatorname{tg} \varphi = \frac{4}{7}$ in $\operatorname{tg} \varepsilon = \frac{4}{3}$ .....	1 točka
Izračun $\varphi = 29,74^\circ$ .....	1 točka
Izračun $\varepsilon = 53,13^\circ$ .....	1 točka
Sklep $\angle AEB = 97,13^\circ$ .....	1 točka
Razultat: Vmesni kot je $82,87^\circ$ .....	1 točka

5. Dana funkcija je padajoča, če velja  $\frac{3-2a}{a+5} < 0$ . Njen graf seka ordinatno os nad koordinatnim izhodiščem, če velja  $\frac{2a-1}{3-a} > 0$ . Prva neenačba je izpolnjena, če imata števec in imenovalec ulomka  $\frac{3-2a}{a+5}$  različna predznaka, to je za  $a < -5$  ali za  $a > \frac{3}{2}$ . Druga neenačba je izpolnjena, če imata števec in imenovalec ulomka  $\frac{2a-1}{3-a}$  enaka predznaka, to je za  $\frac{1}{2} < a < 3$ . Obe neenačbi sta izpolnjeni, če je  $\frac{3}{2} < a < 3$

Zapis $\frac{3-2a}{a+5} < 0 \quad \wedge \quad \frac{2a-1}{3-a} > 0$ .....	1 + 1 točka
Rešitev prve neenačbe $a < -5 \quad \vee \quad a > \frac{3}{2}$ .....	1 točka
Rešitev druge neenačbe $\frac{1}{2} < a < 3$ .....	1 točka
Rešitev $\frac{3}{2} < a < 3$ .....	2 točki

### Tretji letnik

1. Denimo, da je poslovodja nabavil  $x$  puloverjev po nabavni ceni  $c$ . Tedaj velja  $x \cdot c = 960000$  in  $x \cdot 12000 = 960000 + 60c$ . Iz druge enačbe izrazimo  $c = 200x - 16000$  in vstavimo v prvo, ki jo preuredimo v kvadratno enačbo  $200x^2 - 16000x - 960000 = 0$ , poenostavimo v  $x^2 - 80x - 4800 = 0$  in razstavimo  $(x - 120)(x + 40) = 0$ . Edina smiselna rešitev enačbe je  $x = 120$ . Poslovodja je nabavil 120 puloverjev.

Izbira neznank:  $x$  - št. puloverjev,  $c$  - nabavna cena,

$d$ - dobiček pri prodaji enega puloverja .....	1 točka
Enačbe: $960000 = xc$ , $12000 = c + d$ , $dx = 60c$ .....	1 točka
Pravilno reševanje sistema enačb .....	2 točki
Rešitve $x = 120$ , $c = 8000$ , $d = 4000$ .....	1 točka
Odgovor: Poslovodja je nabavil 120 puloverjev .....	1 točka

2. Najprej iz  $\log_3(x - y) = 0$  sklepamo, da je  $x - y = 3^0 = 1$  oziroma  $x = y + 1$ . Nato drugo enačbo zapišemo  $3^{y+1} \cdot 2^y = 648$  oziroma v obliki  $3 \cdot 3^y \cdot 2^y = 648$  in poenostavimo v

$6^y = 216 = 6^3$ , od koder preberemo  $y = 3$  ter izračunamo še  $x = 4$ .

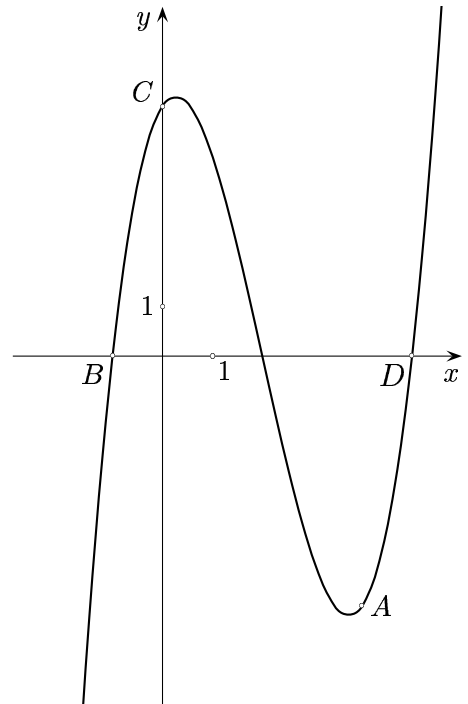
Poenostavitev logaritemske enačbe  $3^0 = x - y \Rightarrow x = y + 1$  ..... 1 + 1 točka  
 Vstavljanje v drugo enačbo  $3^{y+1} \cdot 2^y = 648$  ..... 1 točka  
 Sklep:  $3^y \cdot 2^y = 216$  ..... 1 točka  
 Rešitvi:  $y = 3 \Rightarrow x = 4$  ..... 1 + 1 točka

3. Enačbo lahko poenostavimo v  $\frac{3}{2} \log_x 5 - \frac{5}{4} = (\frac{1}{2} \log_x 5)^2$ . Če označimo  $\log_x 5 = t$  in enačbo poenostavimo, dobimo  $t^2 - 6t + 5 = 0$ , ki ima rešitvi  $t_1 = 1$  in  $t_2 = 5$ . Iz  $\log_x 5 = 1$  dobimo  $x_1 = 5$ , iz  $\log_x 5 = 5$  pa  $x^5 = 5$  oziroma  $x_2 = \sqrt[5]{5}$ .

Poenostavitev  $\frac{3}{2} \log_x 5 - \frac{5}{4} = (\frac{1}{2} \log_x 5)^2$  ..... 1 točka  
 Uvedba nove neznanke  $\log_x 5 = t$  ..... 1 točka  
 Enačba  $t^2 - 6t + 5 = 0$  ..... 1 točka  
 Rešitvi kvadratne enačbe:  $t_1 = 1, t_2 = 5$  ..... 1 točka  
 Rešitvi:  $x_1 = \sqrt[5]{5}$  in  $x_2 = 5$  ..... 1 + 1 točka

4. Točki  $B$  in  $D$  sta ničli polinoma, zato lahko zapišemo  $y = a(x + 1)(x - 5)(x - x_3)$ . Polinom seka ordinatno os v točki  $C(0, 5)$ , torej je  $5 = a \cdot 1 \cdot (-5) \cdot (-x_3)$  oziroma  $5ax_3 = 5$ , od koder dobimo  $x_3 = \frac{1}{a}$ , saj je  $a \neq 0$ . Končno upoštevamo, da gre polinom skozi točko  $A$ , pa imamo  $-5 = a \cdot 5 \cdot (-1) \cdot (4 - \frac{1}{a})$  oziroma  $a \cdot (4 - \frac{1}{a}) = 1$ , od koder izrazimo  $a = \frac{1}{2}$ . Polinom ima enačbo  $y = \frac{1}{2}(x + 1)(x - 5)(x - 2)$ .

Zapis:  $y = a(x - x_1)(x - x_2)(x - x_3)$   
 ali  $y = a(x + 1)(x - 5)(x - x_3)$  ..... 1 točka  
 Točka  $C$  - zapisana enačba  $a \cdot x_3 = 1$  ..... 1 točka  
 Točka  $A$  - zapisana enačba  $1 = 4a - ax_3$  ..... 1 točka  
 Rešitvi  $a = \frac{1}{2}, x = 2$  ..... 1 točka  
 Zapis polinoma:  $y = \frac{1}{2}(x + 1)(x - 5)(x - 2)$  .... 1 točka  
 Skiciran graf ..... 1 točka



5. Enačbo preoblikujemo v  $y^2 - x^2 = 73$  oziroma v  $(y + x)(y - x) = 73$ . Število 73 je praštevilo, zato ga lahko razcepimo le na štiri načine:  $73 \cdot 1, 1 \cdot 73, -73 \cdot (-1)$  in  $-1 \cdot (-73)$ . Tako pridemo do štirih sistemov enačb, ki jih rešimo:

$y + x = 73$	$y + x = -73$	$y + x = 1$	$y + x = -1$
$y - x = 1$	$y - x = -1$	$y - x = 73$	$y - x = -73$
$y = 37$	$y = 37$	$y = -37$	$y = -37$
$x = 36$	$x = -36$	$x = -36$	$x = 36$

- Preoblikovanje enačbe  $(y + x)(y - x) = 73$  ..... 1 točka  
 Ugotovitev: število 73 je praštevilo ..... 1 točka  
 Sklepanje:  $x$  in  $y$  morata zadoščati enemu od štirih sistemov: ..... 1 točka

$$\begin{array}{cccc} y + x = 73 & y + x = -73 & y + x = 1 & y + x = -1 \\ y - x = 1 & y - x = -1 & y - x = 73 & y - x = -73 \end{array}$$

- Rešitve sistemov  $(36, 37)$ ,  $(-36, -37)$ ,  $(-36, 37)$  in  $(36, -37)$  ..... 3 točke  
 OPOMBA: zapisani samo trije pari ..... 2 točki  
 zapisan en ali dva para ..... 1 točka

### Četrty letnik

1. Ker se  $f(-x) = \cos(-x) - \sin(-x) = \cos x + \sin x$  razlikuje od  $f(x)$  in od  $-f(-x)$ , funkcija  $f(x)$  ni niti soda niti liha.

Pišimo:  $-\sqrt{2} \sin(x - \frac{\pi}{4}) = -\sqrt{2}(\sin x \cos \frac{\pi}{4} - \cos x \sin \frac{\pi}{4}) = \cos x - \sin x = f(x)$ . Ker je zaloga vrednosti funkcije  $g(x) = \sin(x - \frac{\pi}{4})$  enaka  $[-1, 1]$ , je zaloga vrednosti funkcije  $f(x)$  enaka  $[-\sqrt{2}, \sqrt{2}]$ .

- (a) Dokaz in pravilen sklep ..... 2 točki  
 (b) Uporaba adicijskega izreka, pravilen izračun in zapis funkcije ..... 1 + 1 + 1 točka  
 Zapis zaloge vrednosti  $[-\sqrt{2}, \sqrt{2}]$  ..... 1 točka

2. Vzemimo zaporedni naravni števili  $n$  in  $n + 1$ . Razlika njunih kvadratov je enaka  $(n + 1)^2 - n^2 = 2n + 1$ . Če  $n$  povečamo za 1 (vzamemo naslednji zaporedni naravni števili), dobimo  $((n + 1) + 1)^2 - (n + 1)^2 = 2(n + 1) + 1 = 2n + 3$  - razlika kvadratov dveh zaporednih naravnih števil se torej poveča za 2. Ker to velja za katerakoli dva zaporedna para po dveh zaporednih naravnih števil, tvorijo dobljena števila aritmetično zaporedje.

Zapis zaporednih naravnih števil  $n, n + 1, n + 2, n + 3$  ..... 1 točka  
 Zapis razlike kvadratov ..... 1 točka

Poenostavitev prve razlike:

$$(n + 1)^2 - n^2 = (n + 1 + n)(n + 1 - n) = 2n + 1 \dots\dots\dots 1 \text{ točka}$$

Poenostavitev naslednjih dveh razlik:

$$(n + 2)^2 - (n + 1)^2 = (n + 2 + n + 1)(n + 2 - n - 1) = 2n + 3$$

$$(n + 3)^2 - (n + 2)^2 = (n + 3 + n + 2)(n + 3 - n - 2) = 2n + 5 \dots\dots\dots 1 \text{ točka}$$

Zapis zaporedja:  $2n + 1, 2n + 3, 2n + 5, \dots\dots\dots 1 \text{ točka}$

Sklep: Aritmetično zaporedje z  $d = 2$  ..... 1 točka

3. Torto je pojedlo 30 ljudi. Ker je vsak v povprečju pojedel 24 dag, je trinadstropna torta tehtala  $30 \cdot 24 = 720$  dag. Njena prostornina je bila  $\frac{77\pi \cdot 720}{10} = 5544\pi \text{ cm}^3$ .

Če je višina posamezne torte enaka  $v$ , razmik med posamezno torto in podstavkom nad njo pa  $x$ , velja  $v + x = 11$  in  $3v + 2x = 30$ . Iz teh dveh enačb izračunamo  $v = 8 \text{ cm}$ .

Polmere posameznih tort označimo z  $r, r - 3$  in  $r - 6$ . Tedaj je  $\pi r^2 \cdot v + \pi(r - 3)^2 \cdot v + \pi(r - 6)^2 \cdot$

$v = 5544\pi$ . Enačbo lahko poenostavimo (upoštevamo, da je  $v = 8$  cm) v  $3r^2 - 18r + 45 = 693$  oziroma  $r^2 - 6r - 216 = 0$  in razstavimo  $(r - 18)(r + 12) = 0$ . Edina smiselna rešitev enačbe je  $r = 18$ . Polmer spodnje (največje torte) je bil 18 cm.

Masa torte:  $T = n \cdot 24$  dag =  $30 \cdot 24 = 720$ dag ..... 1 točka  
 Prostornina torte:

$$10 \text{dag} \dots\dots\dots 77\pi \text{cm}^3$$

$$720 \text{dag} \dots\dots\dots x \text{cm}^3$$

$$x = 77\pi \cdot \frac{720}{10} = 5544\pi \text{cm}^3 \dots\dots\dots 1 \text{ točka}$$

$$\text{Višina posamezne oblate: } v = \frac{30-2 \cdot 3}{3} = 8 \text{ cm} \dots\dots\dots 1 \text{ točka}$$

$$\text{Prostornina spodnje oblate: } V_1 = \pi r^2 v$$

$$\text{Prostornina druge oblate: } V_2 = \pi(r - 3)^2 v$$

$$\text{Prostornina tretje oblate: } V_3 = \pi(r - 6)^2 v \dots\dots\dots 1 \text{ točka}$$

Skupaj:

$$V = V_1 + V_2 + V_3$$

$$V = \pi v(r^2 + (r - 3)^2 + (r - 6)^2)$$

$$V = \pi \cdot 8 \cdot (3r^2 - 18r + 45)$$

$$V = \pi \cdot 8 \cdot 3 \cdot (r^2 - 6r + 15)$$

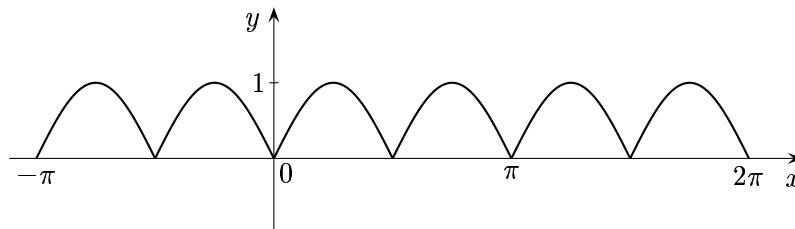
$$5544\pi = \pi \cdot 24(r^2 - 6r + 15) \dots\dots\dots 1 \text{ točka}$$

$$231 = r^2 - 6r + 15$$

$$r^2 - 6r - 216 = 0$$

$$\text{Rešitev } (r - 18)(r + 12) = 0 \Rightarrow r = 18 \text{ cm} \dots\dots\dots 1 \text{ točka}$$

4. Najprej zapišemo  $f(x) = \sqrt{1 - \cos^2 2x} = \sqrt{\sin^2 2x} = |\sin 2x|$ . Ničle funkcije so  $x = \frac{k\pi}{2}$ ,  $k \in \mathbb{Z}$ .



$$\text{Upoštevamo: } f(x) = \sqrt{1 - \cos^2 2x} = \sqrt{\sin^2 2x} \dots\dots\dots 1 \text{ točka}$$

$$\text{Sklep } f(x) = |\sin 2x| \dots\dots\dots 1 \text{ točka}$$

$$\text{Ničle } x = \frac{k\pi}{2}, k \in \mathbb{Z} \dots\dots\dots 1 \text{ točka}$$

$$\text{Narisane ničle na grafu} \dots\dots\dots 1 \text{ točka}$$

$$\text{Graf } g(x) = \sin 2x \dots\dots\dots 1 \text{ točka}$$

$$\text{Graf } f(x) = |g(x)| \dots\dots\dots 1 \text{ točka}$$

5. Najprej izpolnimo preglednici.

Šola A:

Razred	Število dijakov	Neopr. ure
1a	30	105
1b	28	80
2a	26	100
3a	27	85
4a	26	130
4b	23	110
	160	610

Šola B:

Frekvenčni razred	Odstotek	Število dijakov	Povprečje razreda	Zmnožek
0 – 4	34	68	2	136
5 – 9	15	30	7	210
10 – 14	28	56	12	672
15 – 19	10	20	17	340
20 – 24	13	26	22	572
		200		1930

Povprečno število neopravičenih ur na dijaka na šoli A je  $\bar{x} = \frac{105+80+100+85+130+110}{30+28+26+27+26+23} = \frac{610}{160} = 3,81$ , na šoli B pa  $\bar{y} = \frac{68 \cdot 2 + 30 \cdot 7 + 56 \cdot 12 + 20 \cdot 17 + 26 \cdot 22}{200} = \frac{1930}{200} = 9,65$ .

Zapis tabele za šolo A: ..... 1 točka

Povprečje za šolo A:  $\bar{x} = \frac{105+80+100+85+130+110}{30+28+26+27+26+23} = \frac{610}{160} = 3,81$  ..... 1 točka

Izračunano število dijakov za šolo B ..... 1 točka

Povprečje za šolo B:

račun  $68 \cdot 2 + 30 \cdot 7 + 56 \cdot 12 + 20 \cdot 17 + 26 \cdot 22 = 1930$  ..... 1 točka

$\bar{y} = \frac{1930}{200} = 9,65$  ..... 1 točka

Odgovor:

Na šoli A je povprečno število neopravičenih ur na dijaka 3,81,

na šoli B pa 9,65. .... 1 točka